

<b>Comenzado el</b>	martes, 20 de julio de 2021, 16:55
<b>Estado</b>	Finalizado
<b>Finalizado en</b>	martes, 20 de julio de 2021, 16:56
<b>Tiempo empleado</b>	38 segundos
<b>Puntos</b>	7,00/20,00
<b>Calificación</b>	<b>3,50</b> de 10,00 (35%)
<b>Comentario -</b>	No Apto

### Pregunta 1

Correcta

Puntúa 1,00 sobre 1,00

🚩 Marcar pregunta

#### Enunciado de la pregunta

Aunque presenta variabilidad de una mujer a otra, ¿a partir de qué presión se considera que una contracción es dolorosa?

Seleccione una:

☐ a. 25 mm Hg.

☐ b. 40 mm Hg.

☐ c. 55 mm Hg.

☐ d. 70 mm Hg.

#### Retroalimentación

Epígrafe Elementos del trabajo de parto / Motor / Contracción uterina.

La respuesta correcta es: 25 mm Hg.

### Pregunta 2

Incorrecta

Puntúa 0,00 sobre 1,00

🚩 Marcar pregunta

#### Enunciado de la pregunta

¿Cuál es el resultado del motor del parto?

Seleccione una:

☐ a. El borramiento y dilatación cervical.

☐ b. La distensión del segmento uterino inferior.

☐ c. La expulsión fetal.

☐ d. Todos los anteriores.

#### Retroalimentación

Epígrafe Elementos del trabajo de parto / Motor.

La respuesta correcta es: Todos los anteriores.

### Pregunta 3

Incorrecta

Puntúa 0,00 sobre 1,00

🚩 Marcar pregunta

#### Enunciado de la pregunta

Señala la opción correcta sobre la presentación fetal:

Seleccione una:

- ☐ a. En la transversa, eje mayor del feto y eje de la madre son paralelos.
- ☐ b. La más frecuente es la longitudinal.
- ☐ c. En la longitudinal, los ejes fetal y materno son perpendiculares.
- ☐ d. Todas son erróneas.

#### Retroalimentación

Epígrafe Elementos del trabajo de parto / Objeto / Estática fetal.

La respuesta correcta es: Todas son erróneas.

### Pregunta 4

Incorrecta

Puntúa 0,00 sobre 1,00

🚩 Marcar pregunta

#### Enunciado de la pregunta

¿Qué pelvis se sitúa bajo la línea innominada?

Seleccione una:

- ☐ a. La pelvis mayor.
- ☐ b. La pelvis falsa.
- ☐ c. La pelvis menor.
- ☐ d. a y b son correctas.

#### Retroalimentación

Epígrafe Elementos del trabajo de parto / Canal / Canal óseo.

La respuesta correcta es: La pelvis menor.

### Pregunta 5

Correcta

Puntúa 1,00 sobre 1,00

🚩 Marcar pregunta

#### Enunciado de la pregunta

La sutura entre el frontal y los parietales, que se extiende transversalmente a partir de la fontanela anterior, se denomina:

Seleccione una:

- ☐ a. Coronal.
- ☐ b. Lamboidea.
- ☐ c. Metópica.

☐ Od. Mitótica.

### **Retroalimentación**

Epígrafe Elementos del trabajo de parto / Objeto / Dimensiones fetales.

La respuesta correcta es: Coronal.

### **Pregunta 6**

Correcta

Puntúa 1,00 sobre 1,00

 Marcar pregunta

#### **Enunciado de la pregunta**

La admisión en maternidad de forma temprana o durante la fase latente, se asocia a:

Seleccione una:

- ☐ Oa. Mayor intervencionismo.
- ☐ Ob. Mayor control con mejores resultados maternos.
- ☐ Oc. Mayor control con mejores resultados perinatales.
- ☐ Od. b y c son correctas.

### **Retroalimentación**


Epígrafe Inicio del parto.

La respuesta correcta es: Mayor intervencionismo.

### **Pregunta 7**

Correcta

Puntúa 1,00 sobre 1,00

 Marcar pregunta

#### **Enunciado de la pregunta**

¿En qué tipo de pelvis predomina el diámetro transversal?

Seleccione una:

- ☐ Oa. En la platipeloide.
- ☐ Ob. En la transversa.
- ☐ Oc. En la androide.
- ☐ Od. Dependerá del plano de Hodge que se valore en ese instante.

### **Retroalimentación**


Epígrafe Elementos del trabajo de parto / Canal / Canal óseo.

La respuesta correcta es: En la platipeloide.

### **Pregunta 8**

Incorrecta

Puntúa 0,00 sobre 1,00

 Marcar pregunta

#### **Enunciado de la pregunta**

La duración normal de la fase pasiva del expulsivo en una nulípara sin epidural es de hasta:

Seleccione una:

- ☐ a. 1 hora, igual que si llevara epidural.
- ☐ b. 2 horas, igual que si llevara epidural.
- ☐ c. 1 hora, 1 hora menos que si llevara epidural.
- ☐ d. 2 horas, 1 hora menos que si llevara epidural.

### **Retroalimentación**


Epígrafe Etapas de parto / Periodo expulsivo o segunda etapa del parto.

La respuesta correcta es: 2 horas, igual que si llevara epidural.

### **Pregunta 9**

Incorrecta

Puntúa 0,00 sobre 1,00

 Marcar pregunta

### **Enunciado de la pregunta**

¿A qué puntuación en el test de Bishop corresponde un cérvix en posición media, blando, borrado un 50% y con 3 cm de dilatación?

Seleccione una:

- ☐ a. 4.
- ☐ b. 5.
- ☐ c. 6.
- ☐ d. 7.

### **Retroalimentación**

Epígrafe Etapas de parto / Periodo de dilatación o primera etapa del parto / Fase activa.

La respuesta correcta es: 6.

### **Pregunta 10**

Incorrecta

Puntúa 0,00 sobre 1,00

 Marcar pregunta

### **Enunciado de la pregunta**

¿Qué plano de Hodge se sitúa a nivel de las espinas ciáticas?

Seleccione una:

- ☐ a. I.
- ☐ b. II.
- ☐ c. III.
- ☐ d. IV.

### **Retroalimentación**

Epígrafe Elementos del trabajo de parto / Canal / Canal óseo.

La respuesta correcta es: III.

## Pregunta 11

Incorrecta

Puntúa 0,00 sobre 1,00

🚩 Marcar pregunta

### Enunciado de la pregunta

¿Cómo se denomina la presentación podálica en la que o ambos pies, o una o ambas rodillas, pueden estar descendidos?

Seleccione una:

- ☐ a. Nalgas puras.
- ☐ b. Nalgas inversas.
- ☐ c. Nalgas completas.
- ☐ d. Nalgas incompletas.

### Retroalimentación

Epígrafe Elementos del trabajo de parto / Objeto / Estática fetal.

La respuesta correcta es: Nalgas incompletas.

## Pregunta 12

Incorrecta

Puntúa 0,00 sobre 1,00

🚩 Marcar pregunta

### Enunciado de la pregunta

Las siguientes opciones son factores miométriales que van a modificar el miometrio desde el inicio de la gestación hasta el parto, excepto una. Señala la errónea:

Seleccione una:

- ☐ a. Distensión miometrial, que estimula la síntesis de receptores de oxitocina.
- ☐ b. Aumento de los receptores de oxitocina, especialmente en el segmento inferior del útero.
- ☐ c. Incremento de la producción de estrógenos, que produce hipertrofia de las células miométriales, síntesis de proteínas contráctiles en el miometrio, aumento y activación de los canales de calcio.
- ☐ d. Aparición de comunicaciones o gap junctions entre célula y célula miometrial para facilitar el paso de mensajeros de una a otra célula y así transmitir y propagar el impulso contráctil.

### Retroalimentación

Epígrafe Causas del inicio de parto / Factores miométriales.

La respuesta correcta es: Aumento de los receptores de oxitocina, especialmente en el segmento inferior del útero.

## Pregunta 13

Incorrecta

Puntúa 0,00 sobre 1,00

🚩 Marcar pregunta

### Enunciado de la pregunta

La ansiedad durante el parto se asocia con altos niveles de epinefrina (adrenalina), la hormona del estrés, que, a su vez, puede ocasionar:

Seleccione una:

- ☐ a. Bajas puntuaciones en el test Apgar.
- ☐ b. Patrones anormales de la frecuencia cardiaca fetal.
- ☐ c. Una disminución de la contractibilidad uterina
- ☐ d. Todas son correctas.

### Retroalimentación

Epígrafe Participación de la pareja en el trabajo de parto.

La respuesta correcta es: Todas son correctas.

### Pregunta 14

Incorrecta

Puntúa 0,00 sobre 1,00

🚩 Marcar pregunta

### Enunciado de la pregunta

A nivel clínico; se considera que el parto ha comenzado cuando se instaura una actividad uterina regular (2-3 contracciones de intensidad moderada-fuerte cada 10 minutos), la dilatación del cuello uterino es de:

Seleccione una:

- ☐ a. 2 cm.
- ☐ b. 3 cm.
- ☐ c. 4cm.
- ☐ d. 5 cm.

### Retroalimentación

Epígrafe Inicio del parto.

La respuesta correcta es: 5 cm.

### Pregunta 15

Incorrecta

Puntúa 0,00 sobre 1,00

🚩 Marcar pregunta

### Enunciado de la pregunta

¿Qué porcentaje de gestantes son de bajo riesgo?

Seleccione una:

- ☐ a. 60-70.
- ☐ b. 70-80.
- ☐ c. 80-90.
- ☐ d. 90-100.

### **Retroalimentación**

Epígrafe Fisiología del trabajo de parto.

La respuesta correcta es: 70-80.

### **Pregunta 16**

Incorrecta

Puntúa 0,00 sobre 1,00

🚩 Marcar pregunta

#### **Enunciado de la pregunta**

¿Dónde se sintetiza la proteína del embarazo 1?

Seleccione una:

- ☐ a. En la decidua.
- ☐ b. En el pulmón fetal.
- ☐ c. En el ovario.
- ☐ d. En la placenta.

### **Retroalimentación**

Epígrafe Causas del inicio de parto / Membranas ovulares, líquido amniótico y placenta.

La respuesta correcta es: En la placenta.

### **Pregunta 17**

Correcta

Puntúa 1,00 sobre 1,00

🚩 Marcar pregunta

#### **Enunciado de la pregunta**

¿A partir de qué presión comienza a ser palpable en el abdomen una contracción uterina?

Seleccione una:

- ☐ a. 20 mm Hg.
- ☐ b. 30 mm Hg.
- ☐ c. 40 mm Hg.
- ☐ d. 50 mm Hg.

### **Retroalimentación**

Epígrafe Elementos del trabajo de parto / Motor / Contracción uterina.

La respuesta correcta es: 20 mm Hg.

### **Pregunta 18**

Correcta

Puntúa 1,00 sobre 1,00

🚩 Marcar pregunta

#### **Enunciado de la pregunta**

¿Qué porcentaje de mujeres se estima que tienen una pelvis ginecoide?

Seleccione una:

- ☐ a. 50%.

- ☐ Ob. 70%.
- ☐ Oc. 85%.
- ☐ Od. 95%.

### **Retroalimentación**


Epígrafe Elementos del trabajo de parto / Canal / Canal óseo.

La respuesta correcta es: 50%.

### **Pregunta 19**

Incorrecta

Puntúa 0,00 sobre 1,00

 Marcar pregunta

### **Enunciado de la pregunta**

¿Qué frecuencia de contracciones ha de haber en la fase activa del parto según la GPCAPN y la OMS?

Seleccione una:

- ☐ Oa. La GPCAPN indica que la frecuencia ha de ser de, al menos, 3 contracciones cada 10 minutos. La OMS no hace alusión a la frecuencia concreta de las contracciones.
- ☐ Ob. La OMS indica que la frecuencia ha de ser de, al menos, 3 contracciones cada 10 minutos. La GPCAPN no hace alusión a la frecuencia concreta de las contracciones.
- ☐ Oc. Ambas fuentes indican que la frecuencia ha de ser de, al menos, 3 contracciones cada 10 minutos.
- ☐ Od. Ninguna de las dos fuentes hace alusión a la frecuencia concreta de las contracciones.

### **Retroalimentación**

Epígrafe Etapas de parto / Periodo de dilatación o primera etapa del parto / Fase activa.

La respuesta correcta es: Ninguna de las dos fuentes hace alusión a la frecuencia concreta de las contracciones.

### **Pregunta 20**

Correcta

Puntúa 1,00 sobre 1,00

 Marcar pregunta

### **Enunciado de la pregunta**

¿Cómo comienza a desprenderse la placenta en el alumbramiento en la mayoría de los casos?

Seleccione una:

- ☐ Oa. Por su parte central.
- ☐ Ob. Por un borde lateral.
- ☐ Oc. Por el borde más próximo al cérvix.
- ☐ Od. Por el borde más distal del cérvix.

### **Retroalimentación**

Epígrafe Etapas de parto / Periodo de alumbramiento o tercera etapa del parto

La respuesta correcta es: Por su parte central.

[Finalizar revisión](#)

Ir a...

[Salta <span id="mod\\_quiz\\_navblock\\_title">Navegación por el cuestionario</span>](#)

**Navegación por el cuestionario**